

역함수의 모든 것

by URdokzon

UR dokzon in Orbi

역함수

- 정의역과 치역이 반대로 들어가는 함수이다.
- 함수의 정의 자체가 치역과 대응되지 않는 정의역의 원소가 있으면 안 되고, 동일한 정의역에 대해 두 개 이상의 치역이 대응되어서도 안 되므로, 일대일 대응 함수(단조증가, 단조감소하는 함수)만이 역함수가 존재한다.
- $f^{-1}(b) = a$ 이면, $f(a) = b$ 이다.
- $f : X \rightarrow Y$ / $g : Y \rightarrow Z$ 라고 하자. 이때 합성함수 $(g \circ f)(x)$ 는 $X \rightarrow Y \rightarrow Z$ 즉, $X \rightarrow Z$ 이다.
- 그렇다면, 합성함수 $(g \circ f)(x)$ 의 역함수는 $Z \rightarrow Y \rightarrow X$ 즉, $Z \rightarrow X$ 일 것이다. 이때, $g^{-1} : Z \rightarrow Y$, $f^{-1} : Y \rightarrow X$ 이므로 $(f^{-1} \circ g^{-1})(x)$ 가 $(g \circ f)(x)$ 의 역함수이다.

역함수는 방금 본 것처럼, 정의역과 치역이 그대로 바뀔 수 있는 함수이다.
이 정의가 어떻게 문제에 적용되는지 지금부터 살펴보자.

ex. 1) $f(x) = f^{-1}(x)$ 의 근을 구해라.

가장 기본적인 역함수 문제이다. 하지만, 역함수 킬러 문제의 근간이며, 이 기본을 몰라 역함수를 어려워하는 학생이 대다수이니 잘 보길 바란다.

Sol. for ex. 1)

$f(a) = f^{-1}(a) = b$ 라고 하자. $f^{-1}(a) = b \rightarrow f(b) = a$ 이므로, $f(a) = b$ 와 $f(b) = a$ 를 동시에 만족하는 순서쌍 (a, b) 가 $f(x) = f^{-1}(x)$ 의 근이 된다.

가장 쉽게 만족하는 순서쌍은 $a = b$ 일 때이다. $f(a) = a$ 이므로, $f(x) = x$ 의 근은 $f(x) = f^{-1}(x)$ 의 근에 모두 포함된다.

$a \neq b$ 일 때, $a < b$ 라고 하면, $f(a) = b > a = f(b)$ 이다.

$\therefore f(x)$ 는 감소함수이다. $\rightarrow y = x$ 와 한 번만 만날 수 있음.

따라서, $a \neq b$ 일 때 $f(x) = f^{-1}(x)$ 의 근이 생기려면, $f(x)$ 는 반드시 감소함수여야 하며,

$f(x)$ 가 증가함수일 때는 $f(x) = x$ 의 근만이 $f(x) = f^{-1}(x)$ 의 근이 될 수 있다.

ex 1.의 해설을 정리해보자.

i) $f(x)$ 가 증가함수일 때는 $f(x) = x$ 의 근만 확인하면 된다.

ii) $f(x)$ 가 감소함수일 때는 $f(x) = x$ 의 근 하나와 $f(a) = b, f(b) = a$ 를 동시에 만족하는 근을 찾으면 된다.

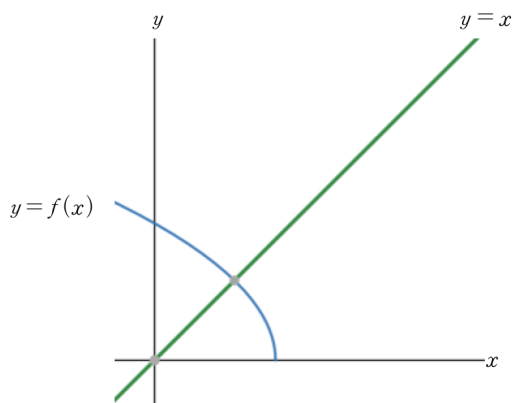
\rightarrow 특별히, ii)는 $f(x) = x$ 의 근이 하나만 존재, 나머지는 a 와 b 로 쌍으로 존재. \therefore 근이 홀수 개

다음의 예제로 연습해보자.

UK dokzon in Orbi

ex 2. $f(x) = \sqrt{7-3x}$ 에 대하여 $f(x) = f^{-1}(x)$ 의 근을 모두 구하시오.

Sol. for ex 2.



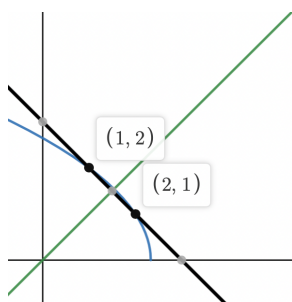
$f(x)$ 는 감소함수이다.
 $f(x) = x$ 의 근을 구해보자.
 $\sqrt{7-3x} = x \rightarrow x^2 + 3x - 7 = 0$
 근의 공식을 사용하면, $x = -3 \pm \sqrt{37}$
 이때 근이 양수여야 하므로, $x = -3 + \sqrt{37}$ 만 근.

$f(a) = b, f(b) = a$ 를 만족하는 (a, b) 를 찾자.

$$\sqrt{7-3a} = b, \sqrt{7-3b} = a \rightarrow 3a + b^2 = 7, 3b + a^2 = 7 \dots \text{두 식을 빼주자.}$$

$$(a-b)(a+b-3) = 0 \rightarrow \text{경우의 수가 둘로 나뉜다. } a = b / a + b = 3$$

$$a = b \rightarrow a^2 + 3a - 7 = 0 \dots \text{이는 앞선 } f(x) = x \text{의 근이므로 여차피 중복이다.}$$



$$b = 3 - a \rightarrow a^2 - 3a + 9 = 7 \text{ 정리하면, } a = 1, b = 2$$

\therefore 왼쪽의 그림처럼 $(1, 2) / (2, 1)$

모두 합치면 총 3개의 근이다.

$$x = 1, 2, -3 + \sqrt{37} \text{ (답)}$$

이런 식으로, $f(x)$ 가 감소함수일 때 근을 구해주는 것을 항상 기억하자.

ex 3. 2019학년도 6월 29번
함수

$$f(x) = \begin{cases} ax+b & (x < 1) \\ cx^2 + \frac{5}{2}x & (x \geq 1) \end{cases}$$

이 실수 전체의 집합에서 연속이고 역함수를 갖는다. 함수 $y=f(x)$ 의 그래프와 역함수 $y=f^{-1}(x)$ 의 그래프의 교점의 개수가 3이고, 그 교점의 x 좌표가 각각 $-1, 1, 2$ 일 때, $2a+4b-10c$ 의 값을 구하시오. (단, a, b, c 는 상수이다.)

해설

$f(x)$ 는 연속이므로, $f(1-) = f(1+) \rightarrow a+b = c + \frac{5}{2}$

$f(x)$ 가 역함수를 가지므로, 단조증가하거나 단조감소한다. 한편, $f(x) = f^{-1}(x)$ 의 근이 3개 즉, 홀수 개이므로 $f(x)$ 가 감소할 수도 있다는 것을 염두에 두어야 한다.

$f(x)$ 가 증가함수라고 가정해보자. 그러면, $f(x) = x$ 의 근이 $-1, 1, 2$ 세 개다.

하지만, $f(x)$ 는 $x < 1$ 에서 일차함수이므로 $y = x$ 와의 근이 최대 1개 생길 수 있다. \therefore 모순

$f(x)$ 는 감소함수이다. 그렇다면, $f(x) = x$ 의 근이 단 하나 존재할 것이고, (a, b) 에 해당하는 근은 나머지 두 개일 것이다. 여기서 개념 하나가 등장한다.

(a, b) 와 (b, a) 는 $y = x$ 대칭이므로 언제나 대소는 $a < k = \{k \mid k \text{는 } f(x) = x \text{의 근}\} < b$ 일 것이다.
 $\therefore a = -1, k = 1, b = 2 \dots$ 바로 확정된다.

$$f(-1) = 2 \rightarrow -a + b = 2, f(2) = -1 \rightarrow 4c + 5 = -1$$

구한 식을 연립해서 정리하면, $a = -\frac{1}{2}, b = \frac{3}{2}, c = -\frac{3}{2}$ 이므로 답은 20.

Comment. $f(x)$ 가 감소할 때 나타나는 $f(x) = f^{-1}(x)$ 의 근의 특징을 잘 알아두자.

UR dokzon in Orbi

한편, $f(x)$ 와 $g(x)$ 가 역함수 관계일 때 반드시 성립하는 식인 $f(g(x)) = x$ 와 $g(f(x)) = x$, 이 두 가지를 이용하는 문제도 많이 출제된다. 단순히 저 형태들만 쓰이는 것이 아니라, $f'(g(x))g'(x) = 1$ 이라는 미분 형태도 잘 쓰이니 미적분 선택과목인 사람들은 여기까지 기억하자.

ex 4. 2017학년도 수능 30번

실수 k 에 대하여 함수 $f(x) = x^3 - 3x^2 + 6x + k$ 의 역함수를 $g(x)$ 라 하자.
 방정식 $4f'(x) + 12x - 18 = (f' \circ g)(x)$ 가 닫힌 구간 $[0, 1]$ 에서 실근을 갖기 위한 k 의 최솟값을 m , 최댓값을 M 이라 할 때, $m^2 + M^2$ 의 값을 구하시오.

해설 _

$$f'(x) = 3x^2 - 6x + 6 \rightarrow 4(3x^2 - 6x + 6) + 12x - 18 = 12x^2 - 12x + 6 = 3g(x)^2 - 6g(x) + 6$$

정리하면, $(g(x) - 2x)(g(x) - (-2x + 2)) = 0$ 이므로, $g(x) = 2x$ or $g(x) = -2x + 2$ 이다.

이때 문제에서 주어진 범위가 x 에 대해 닫힌 구간 $[0, 1]$ 이다.

$g(x) = 2x = y$ 에 대해 y 는 x 의 범위에 의해 닫힌 구간 $[0, 2]$ 로 한정된다.

$g(x) = -2x + 2 = y$ 에 대해 y 는 x 의 범위에 대해 닫힌 구간 $[0, 2]$ 로 한정된다.

$g(x) = y \rightarrow f(y) = x$ 를 이용해서 식을 정리하자.

$$f(y) = \frac{1}{2}y \quad (0 \leq y \leq 2), \quad f(y) = -\frac{1}{2}y + 1 \quad (0 \leq y \leq 2) \text{ 로 정리된다.}$$

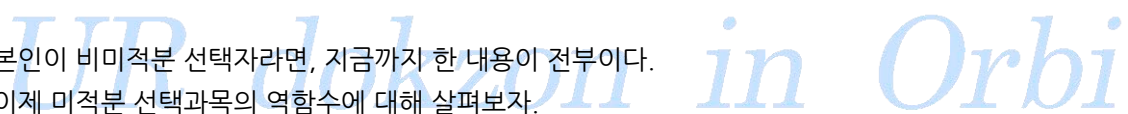
$$y^3 - 3y^2 + 6y + k = \frac{1}{2}y, \quad -\frac{1}{2}y + 1 \quad (0 \leq y \leq 2) \text{의 실근이 존재하도록 } k \text{를 구해주면 된다.}$$

$$k = -y^3 + 3y^2 - \frac{11}{2}y, \quad -y^3 + 3y^2 - \frac{13}{2}y + 1 \quad (0 \leq y \leq 2) \text{ 인데, 두 함수 모두 감소함수이므로, 주어진 범위에 따른 치역을 구하면 각각 '-7~0'과 '-8~1'이다.} \quad \therefore -8 \leq k \leq 1 \text{이므로 65(답)}$$

단순히 $f(x)$ 와 $g(x)$ 가 역함수라는 정의 자체를 이용한 문제이다. 기억해두자.

결국 역함수 문제는 역함수가 무엇인지 이해를 하면, 적용이 그나마 다른 단원보다는 쉽다는 것이다. 어차피 맨날 써야하는 식이 같기 때문이다.

본인이 비미적분 선택자라면, 지금까지 한 내용이 전부이다.
 이제 미적분 선택과목의 역함수에 대해 살펴보자.



$f(x)$ 의 역함수를 $g(x)$ 라 하자. $f(x) = g(x)$ 의 근이 a 일 때 $f(a) = b$ 라고 하자. $\rightarrow g(b) = a$ 이다.
 이때 (a, b) 와 (b, a) 가 $y = x$ 대칭이므로 $f'(a)$ 와 $g'(b)$ 역시 $y = x$ (기울기 1)에 대해서 대칭이다.
 이를 식으로 나타내면, $f'(a) \times g'(b) = 1$ 이다.

식으로도 증명해보자. $f(g(x)) = x \rightarrow f'(g(x)) \times g'(x) = 1 : x = b$ 를 대입하자.
 $f'(g(b)) \times g'(b) = f'(a) \times g'(b) = 1$

따라서 앞으로 역함수와 원래 함수 $y = x$ 와의 관계에서 서로 대칭 관계에 있는 점을 [짝]이라고 부를 것이며, [짝]의 경우, 기울기가 서로 역수 관계임을 활용할 것이다. 이를 두 문제로 연습해 볼 것이며, 이 두 문제를 벗어나는 역함수 문제는 출제되기 어려울 것임을 명심하자.

ex 5. 2021년 10월 교육청 30번
 서로 다른 두 양수 a, b 에 대하여 함수 $f(x)$ 를

$$f(x) = -\frac{ax^3 + bx}{x^2 + 1}$$

라 하자. 모든 실수 x 에 대하여 $f'(x) \neq 0$ 이고, 두 함수 $g(x) = f(x) - f^{-1}(x)$, $h(x) = (g \circ f)(x)$ 가 다음 조건을 만족시킨다.

- (가) $g(2) = h(0)$
- (나) $g'(2) = -5h'(2)$

$4(b-a)$ 의 값을 구하시오.

UR dokzon in Orbi

해설_

우선 미분과 적분 문제의 가장 첫 출발은 '대칭성을 포함한 개형 조사'로 시작된다.

→ $f(x)$ 는 기함수이다. ; $f(0)=0$

또한, a, b 는 모두 양수이므로 $f(x)$ 는 감소함수이다. ($\because \lim_{x \rightarrow \infty} f(x) = -\infty$)

$f(x)$ 는 감소함수이므로 역함수에 대해 조사할 때 $y=x$ 와의 근뿐만 아니라, 서로 대칭인 점을 모두 지나 (a, b), (b, a)의 상황도 보아야 한다. ... 이해가 안 간다면 앞부분 설명을 다시 정독하고 오자.

모든 실수 x 에 대하여 f' 이 근을 안 가진다고 발문에서 주었으므로 역함수가 존재할 테다.

(가): $g(2) = f(2) - f^{-1}(2) = h(0) = g(f(0)) = g(0) = f(0) - f^{-1}(0) = 0 \rightarrow \underline{f(2) = f^{-1}(2)}$

i) $f(2) = 2$ 이고, $f(x)$ 에서 2의 [짝]은 자기 자신인 2이다.

→ $f(x)$ 는 기함수이므로 $f(-2) = -2$ 이다. 그러면 $f(x)$ 가 감소함수라는 문제 발문과 위배된다.

ii) $f(2) = k$ 이고 $f(k) = 2$ 여서, $f(x)$ 에서 2의 [짝]은 k 이다.

→ 발문처럼 $f(x)$ 가 감소함수이려면, k 는 음수여야 한다.

$f(2) = k, f(k) = 2$ 를 $f(x)$ 가 기함수라는 점을 이용해 생각해보자. 원점 대칭인 함수이므로, 함수 위의 모든 점이 원점에 대칭으로 대응된다.

따라서, $y=x$ 에 대칭인 ($2, k$)와 ($k, 2$)는 원점 대칭이어야 한다. $\therefore \underline{k = -2}$

한편, $g(x) = f(x) - f^{-1}(x)$ 이므로, $g(x)$ 역시 원점 대칭인 기함수이다.

(나): $g'(2) = f'(2) - (f^{-1})'(2) = f'(2) - \frac{1}{f'(-2)} = f'(2) + \frac{1}{f'(2)}$ ($\because 2$ 와 -2 는 [짝])

$-5h'(2) = -5g'(f(2))f'(2) = -5f'(2) \times g'(-2) = -5f'(2) \times g'(2) = g'(2)$

→ $g'(2) = f'(2) + \frac{1}{f'(2)} \neq 0, \therefore \underline{f'(2) = -\frac{1}{5}}$

이제 구해낸 식들을 이용해, $f(x)$ 의 문자인 a 와 b 를 구해보자.

$f(x) = -\frac{ax^3 + bx}{x^2 + 1} = -x$ 의 근이 2와 -2이다. 정리하면, $ax^2 + b = x^2 + 1 \rightarrow \underline{4a + b = 5}$

$(x^2 + 1)f(x) = -ax^3 - bx$ 의 양변을 미분하자. $\dots (2x + 1)f(x) + (x^2 + 1)f'(x) = -3ax^2 - b$

$x = 2$ 와 $f'(2) = -\frac{1}{5}$ 를 대입해 정리하면, $12a + b = 11$ 이므로, 연립하면 $a = \frac{3}{4}, b = 2$ 이다.

$4(b - a) = 4 \times \frac{5}{4} = 5$ (답)

UR dokzon in Orbi

문제에서 활용한 기술이 무엇인지 되짚어보자.

감소함수에서 [짝]을 찾는 방법이 두 가지임을 우선 사용했다.

첫째, $f(x) = x$ 의 근을 찾는 것

둘째, $f(a) = b, f(b) = a$ 를 동시에 만족하는 순서쌍 (a, b) 를 찾는 것

그 다음으로는 [짝] 관계에서는 원래 함수와 역함수의 기울기가 역수 관계임을 사용했다.

이를 이 문제에서만 특별히 주어지는 성질인 '원점 대칭'과 결부지어 조기에 k 값을 확인한 것도 분명히 배워갈 만한 점이다. 따라서 미분이든 적분이든, 맨 처음 낯선 함수에 대해서는 대칭성 조사를 하자.

그 외에는 계산이 편하도록 곱이 미분 형태로 바뀌준다면, $(2, f(2)), (-2, f(-2))$ 가 모두 $y = -x$ 위에 있다는 점을 이용한 것 등을 배워갈 수 있겠다.

UR dokzon in Orbi

역함수를 이용해서 풀어야 하는 상황_

1) $f(x) = t$ 의 근을 $g(t)$ 라고 주는 경우

$f(g(t)) = t$ 이므로, $f(x)$ 와 $g(x)$ 는 역함수 관계임을 알 수 있다.

이는 미분이나 적분 모두에서 자주 나오니 확인해두자.

대표적으로 다음과 같은 문제가 있다.

ex 6. 2019 7월 교육청 가형 21

$0 < t < 1$ 인 실수 t 에 대하여 직선 $y = t$ 와 함수 $f(x) = \sin x \left(0 < x < \frac{\pi}{2} \right)$ 의 그래프가 만나는 점을 P라

할 때, 곡선 $y = f(x)$ 위의 점 P에서 그은 접선의 x 절편을 $g(t)$ 라 하자. $g' \left(\frac{2\sqrt{2}}{3} \right)$ 의 값은?

해설_

$y = \sin x$ 는 주어진 범위에서 증가함수이므로 역함수가 존재한다.

x 좌표인 P_x 를 $h(t)$ 라 하면, $h(t)$ 는 f 의 역함수이다. 발문에서 요구하는 P에서 그은 접선의 식은

$y = f'(h(t))(x - h(t)) + t$ 이다. $\rightarrow x$ 절편은 $g(t) = h(t) - \frac{t}{f'(h(t))}$ 이다.

한편, $f'(h(t)) \times h'(t) = 1$ 을 이용하면, $g(t) = h(t) - th'(t)$ 이다. 양변을 미분하자.

$$g'(t) = -th''(t) \rightarrow \therefore -\frac{2\sqrt{2}}{3} \times h'' \left(-\frac{2\sqrt{2}}{3} \right)$$

여기서 개념을 하나 정리하자. $\rightarrow [f(g(x)) = x$ 인 상황에서, $f''(g(x)) = -\frac{g''(x)}{\{f'(x)\}^3}]$

이 개념을 사용해주면, $h''(f(x)) = -\frac{f''(x)}{\{f'(x)\}^3}$ 이다. $f(\theta) = \frac{2\sqrt{2}}{3}$ 라고 하자.

$$f'(\theta) = \cos\theta = \frac{1}{3}, f''(\theta) = -\sin\theta = -\frac{2\sqrt{2}}{3} \rightarrow h'' \left(-\frac{2\sqrt{2}}{3} \right) = \frac{2\sqrt{2}}{3} \times 27 = 18\sqrt{2} \rightarrow -24 \text{ (답)}$$

UR dokzon in Orbi

2) 복잡한 식의 우변을 x 로만 놔둘 수 있을 경우

예를 들어 $\sin f(x) = \frac{x}{\pi}$ 라는 식이 있다고 하자. 이때 π 를 좌변으로 넘겨 정리하면 다음과 같이 된다.

$(\pi \sin x) \circ f(x) = x \rightarrow \pi \sin x$ 와 $f(x)$ 는 역함수 관계임을 사용할 수 있다.

ex 7. 자작

$f(x) = x(x-1)$ ($0 < x < 1$)에 대해 점 $P(t, f(t))$ 와 원점 O 를 지나는 직선과

x 축이 이루는 각을 $g(t)$ 라 하자. 이때, $\int_0^1 g(t)dt$ 의 값이 $a\pi + \ln b$ (a 는 유리수, b 는 무리수)이다.

$\frac{1}{ab^2}$ 의 값을 구하시오.

해설

$\tan g(t) = \frac{f(t)}{t} = t-1 \rightarrow (\tan x + 1) \circ g(x) = x$ 이므로 $g(x)$ 는 $\tan x + 1$ 의 역함수이다.

$$\int_0^1 g(t)dt = \int_{\tan(-\frac{\pi}{4})+1}^{\tan 0+1} g(t) dt = \int_{-\frac{\pi}{4}}^0 \theta \sec^2 \theta d\theta = [\theta \tan \theta]_{-\frac{\pi}{4}}^0 - \int_{-\frac{\pi}{4}}^0 \tan \theta d\theta = \frac{\pi}{4} + \ln\left(\frac{1}{\sqrt{2}}\right)$$

$$\therefore 4 \times 2 = 8(\text{답})$$

따라서, $y = t$ 를 갖고 x 좌표를 묻는 유형과 복잡한 식의 정리 결과가 '합성함수 = x '일 때를 묻는 유형 모두 역함수임을 미리 알아두자.

자연스럽게 역함수의 적분으로 넘어가보자.

UR dokzon in Orbi

-역함수 적분

$f(x)$ 와 $g(x)$ 는 역함수 관계라고 하자.

$\int_{g(a)}^{g(b)} f(x) dx$ 가 역함수 적분의 가장 기본 형태이다. $x = g(t)$ 를 저기다 밀어 넣자.

$$\int_a^b f(g(t)) dx = \int_a^b t g'(t) dt = [t g(t)]_a^b - \int_a^b g(t) dt \text{로 표현된다.}$$

그러므로 f 와 g 를 '왔다갔다'할 때는 서로의 짝을 x 에 밀어 넣어주면 된다.
이러면 아래 끝과 위 끝이 잘 맞아서 좋다.

하는 법은 정리하면, 구간 맞추고, $f(g(t)) = t$ 이용해서 정리하고 무심하게 g' 을 붙이자.

그리고, $\int x f'(x) dx$ 의 형태가 나오면 역함수 적분을 의심하자.

ex 8. 2022학년도 예비 시행 29번

함수 $f(x) = e^x + x - 1$ 과 양수 t 에 대하여 함수

$$F(x) = \int_0^x \{t - f(s)\} ds$$

가 $x = \alpha$ 에서 최댓값을 가질 때, 실수 α 의 값을 $g(t)$ 라 하자. 미분가능한 함수 $g(t)$ 에 대하여

$$\int_{f(1)}^{f(5)} \frac{g(t)}{1 + e^{g(t)}} dt \text{의 값을 구하시오. [4점]}$$

정말 29번임에도 쉬이 풀린다.

$F'(x) = t - f(x)$, $F(0) = 0 \rightarrow x = \alpha$ 에서 극점 가지므로, $f(\alpha) = t \rightarrow f(g(t)) = t$ _ 역함수 관계.

$$\int_{f(1)}^{f(5)} \frac{g(t)}{1 + e^{g(t)}} dt = \int_1^5 \frac{t}{1 + e^t} \times f'(t) dt \text{ (구간 맞췄고, } f(g(t)) = t \text{로 정리, } f' \text{을 무심하게 특.)}$$

$$f'(t) = e^t + 1 \rightarrow \int_1^5 t dt = \frac{1}{2}(5^2 - 1^2) = 12 \text{ (답)}$$

UR dokzon in Orbi

이번에는 조금 어려워 보이는 대신, $\int xf'(x) dx$ 의 형태를 연습할 수 있는 문제를 보자.

ex 9. 2022학년도 수능 30번

실수 전체의 집합에서 증가하고 미분 가능한 함수 $f(x)$ 가 다음 조건을 만족시킨다.

$$(가) f(1) = 1, \int_1^2 f(x) dx = \frac{5}{4}$$

(나) 함수 $f(x)$ 이 역함수를 $g(x)$ 라 할 때, $x \geq 1$ 인 모든 실수 x 에 대하여 $g(2x) = 2f(x)$ 이다.

$\int_1^8 xf'(x) dx = \frac{q}{p}$ 일 때, $p+q$ 의 값을 구하시오. (단, p 와 q 는 서로소인 자연수이다.)

이 문제에 앞서 잠시 치환적분에 담긴 의미를 알아보고자 한다.

$\int f(2t+1) dt$ 가 있을 때 $(2t+1)$ 을 치환할 필요가 없다. 어차피 $+1$ 은 평행이동으로 구간 옮기면 되니 별 문제가 없다. 그러나 t 앞의 계수가 2인 것은 상당히 불편하다.

하지만 $f(2t)$ 와 $f(t)$ 의 의미를 알면 된다. $f(2t)$ 는 $f(t)$ 를 두 배 좌우로 압축한 형태이다.

궁금하면 $\sin x$ 와 $\sin 2x$ 를 생각해 보라.

$f(2t)$ 입장에서 $f(t)$ 는 두 배 늘린 것과 다름없다. 그러면 $f(t)$ 라고 생각하고 적분하면, 넓이가

두 배 넓게 나오는 셈이다. 그러면 보정으로 $\frac{1}{2}$ 를 곱하면 된다.

$\therefore f(2t+1)$ 을 적분하고 싶으면 아래 끝, 위 끝만 맞춰주고 $f(t)$ 앞에 $\frac{1}{2}$ 붙여서 적분해주면 된다.

$$\text{ex. } \int_0^4 \frac{1}{2} f\left(\frac{1}{2}t+4\right) dt = \int_4^6 \frac{1}{2} \times 2 \times f(t) dt = \int_4^6 f(t) dt \text{ 이런 식으로 해주면 된다.}$$

다시 문제로 돌아가보자.

UR dokzon in Orbi

$f(x)$ 는 우선 미분 가능하다.

$$(가): f(1) = 1, \int_1^2 f(x) dx = \frac{5}{4}$$

$$(나): f(g(x)) = x, x \geq 1 \text{인 모든 실수 } x \text{에 대하여 } g(2x) = 2f(x) \rightarrow g(x) = 2f\left(\frac{1}{2}x\right)$$

역함수 g 를 두 배 좌우로 압축하면 f 를 위아래로 두 배 늘리란다. 이때 조심해야 할 것은 둘의 x 좌표가 다르다는 것이며 잘 맞춰주어야 한다 (하나는 x , 하나는 $2x$).

$\int_1^8 xf'(x) dx$ 를 구하는 게 문제인데, 형태가 익숙하다. 아마 역함수 적분일 것이다.

우선, $f(1) = 1$ 이고, $g(2x) = 2f(x)$ 이므로, $f(2) = 2$. 마찬가지로 반복하면, $f(4) = 4, f(8) = 8$.

$$\therefore \int_1^8 xf'(x) dx = \int_{g(1)}^{g(8)} g(t) \times \frac{1}{g'(t)} \times g'(t) dx = \int_1^8 g(t) dt$$

우리는 $g(2x) = 2f(x) \rightarrow g(x) = 2f\left(\frac{1}{2}x\right)$ 로 x 의 범위를 반으로 줄일 수 있다.

또한, 역함수 적분을 할 수 있으므로, 자유자재로 f 와 g 를 갈아탈 수 있다.

우리는 절반으로 범위를 압축하고, 갈아타고, 다시 줄이고, 갈아탈 수 있다.

1~8이라는 구간을 등비수열로 나눠보자. 어차피 전부 \int_1^2 로 모을 수 있을 거다. 압축이 가능하므로.

$$\int_1^8 g(t) dt = \int_1^2 g(t) dt + \int_2^4 g(t) dt + \int_4^8 g(t) dt$$

$$1. \int_4^8 g(t) dt \text{를 반으로 딱 압축해보자. } \int_4^8 g(t) dt = \int_4^8 2f\left(\frac{1}{2}t\right) dt = \int_2^4 2 \times 2 \times f(t) dt = 4 \int_2^4 f(t) dt$$

$$2. \int_2^4 g(t) dt = \int_{f(2)}^{f(4)} g(f(t)) \times f'(t) dt = \int_2^4 tf'(t) dt = 4f(4) - 2f(2) - \int_2^4 f(t) dt$$

$$\text{다르게 표현하면, } \int_2^4 g(t) dt = \int_2^4 2f\left(\frac{1}{2}t\right) dt = \int_1^2 4f(t) dt = 5 = 16 - 4 - \int_2^4 f(t) dt$$

$$\therefore \int_2^4 f(t) dt = 7 \rightarrow 1. \text{의 값은 } 28.$$

$$3. \int_1^2 g(t) dt = \int_{f(1)}^{f(2)} g(f(t)) \times f'(t) dt = \int_1^2 tf'(t) dt = 2f(2) - f(1) - \int_1^2 f(t) dt$$

$$\text{구한 걸 다 더하자. } 4 \times 7 + 5 + 3 - \frac{5}{4} = \frac{139}{4} \rightarrow 143 \text{ (답)}$$

UR dokzon in Orbi

위 문제에서 배워갈 것은 우리가 범위를 조절할 수 있다는 사실을 $g(2x) = 2f(x)$ 라는 식에서 알아내고,

$\int x f'(x) dx$ 를 보고 역함수 적분을 할 수 있다는 사실을 통해 결국 주어진 범위인 \int_1^8 을

\int_1^2 로 압축 가능할 것이라고 생각하고 계산에 들어가야 한다는 사실이다.

어려운 문제 하나만 더 확인해보자.

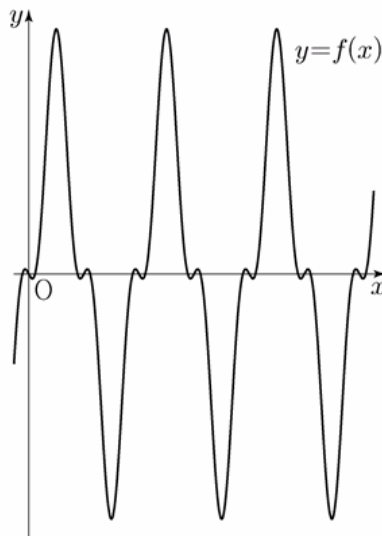
ex 10. 2020학년도 6월 30번

상수 a, b 에 대하여 함수 $f(x) = a \sin^3 x + b \sin x$ 가 $f(\frac{\pi}{4}) = 3\sqrt{2}$, $f(\frac{\pi}{3}) = 5\sqrt{3}$ 을 만족시킨다.

실수 t ($1 < t < 14$)에 대하여 함수 $f(x)$ 의 그래프와 직선 $y = t$ 가 만나는 점의 x 좌표 중 양수인 것을 작은 수부터 크기순으로 모두 나열할 때, n 번째 수를 x_n 이라 하고

$$c_n = \int_{3\sqrt{2}}^{5\sqrt{3}} \frac{t}{f'(x_n)} dt \text{ 라 하자.}$$

$\sum_{n=1}^{101} c_n = p + q\sqrt{2}$ 일 때, $q - p$ 의 값을 구하시오. [4점]



UR dokzon in Orbi

해설_

우선, 단순히 $f\left(\frac{\pi}{4}\right)=3\sqrt{2}$, $f\left(\frac{\pi}{3}\right)=5\sqrt{3}$ 을 이용해서 a 와 b 를 구하면 각각 $a=16$, $b=-2$ 이다.

이때 주어진 그래프 상의 작은 극대의 y 값이 1이고, 큰 극대의 y 값이 14이므로, t 는 그 사이에 존재한다.

함수가 증감이 있으므로 극점마다 구간을 나누어 '구간별 역함수'를 구해야 한다.

Comment. 구간별 역함수는 별 게 아니다. 단순히 극점 사이에서만 역함수를 구한다는 것으로 역함수를 표시할 때 $g_n(x)$ 처럼 표시해 몇 번째 구간의 역함수인지만 나타내면 된다.

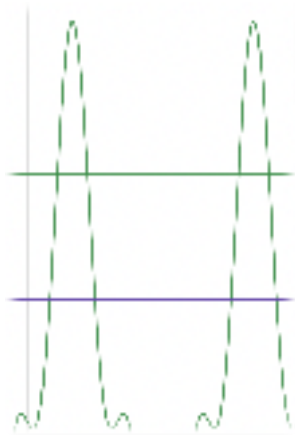
다시 돌아와서, $y=t$ 와 만나는 x 좌표 x_n 을 $g_n(t)$ 라 하자.

$$c_n = \int_{3\sqrt{2}}^{5\sqrt{3}} \frac{t}{f'(g_n(t))} dt = \int_{3\sqrt{2}}^{5\sqrt{3}} t g'_n(t) dt = \int_{\alpha}^{\beta} f_n(t) dt \text{로 정리된다.}$$

(이때 $f_n(t)$ 란, t 와 만나는 n 번째 교점이 있는 구간의 f 를 이른다.)

α 와 β 는 무수히 많다. 그러므로 f 적분 구간을 x 좌표로 말하지 않고 y 좌표로 표시하게 되면, $f(x)$ 를 $y=3\sqrt{2}$ 부터 $y=5\sqrt{3}$ 이 될 때까지 적분한다고 생각하면 된다.

그림으로 그리자면 다음과 같다.



이때 주의할 점이 하나 있다. 현재 $f(x)$ 가 주기적으로 반복되는데, 증가하는 부분이 있고 감소하는 부분이 있다.

증가하는 부분에서는 $y=3\sqrt{2} \sim 5\sqrt{3}$ 과 만나는 x 좌표가 증가하지만 감소하는 부분에서는 x 좌표가 감소하기 때문에 적분이 반대로 된다

즉, 증가하는 부분과 감소하는 부분이 대칭이므로 둘을 적분한 절댓값은 같고, 부호는 다를 것이다. $\dots c_{2n} + c_{2n+1} = 0$

$$\sum_{n=1}^{101} c_n = c_1 + \sum_{n=1}^{50} (c_{2n} + c_{2n+1}) = c_1$$

$$c_1 = \int_{\frac{\pi}{4}}^{\frac{\pi}{3}} f(t) dt = 16 \left[-\cos x + \frac{1}{3} \cos^3 x \right]_{\frac{\pi}{4}}^{\frac{\pi}{3}} + 2 \left[\cos x \right]_{\frac{\pi}{4}}^{\frac{\pi}{3}} = -\frac{19}{3} + \frac{17}{3} \sqrt{2} \rightarrow 12 \text{(답)}$$

이 문제에서는 구간별 역함수와 y 좌표로 적분구간 표시하는 방법을 잘 기억하자.